

Problèmes mathématiques

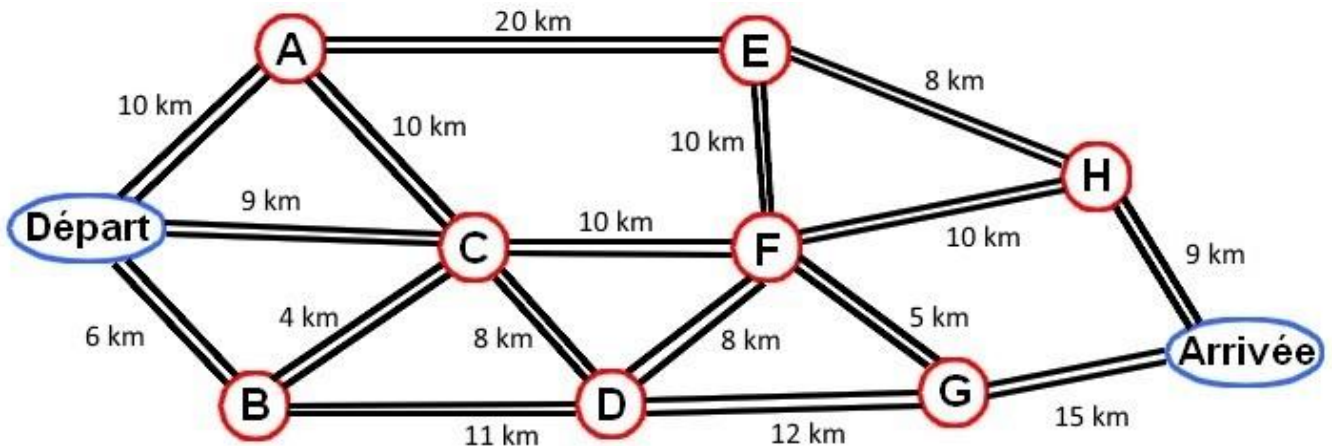
Problème n°1



Un cycliste a parcouru 60 kilomètres.

Observe le plan et écris les lettres correspondant aux étapes de son parcours.

Indice : il y a 4 étapes entre le départ et l'arrivée...



Ta réponse : _____

Problème n°2



Les coureurs viennent de passer la ligne d'arrivée.

Lis bien les informations suivantes et écris le numéro d'arrivée de chaque coureur.

1. Pablo n'est pas le premier.
2. Laura est entre Rita et Julie.
3. Max est juste devant Pablo.
4. Rita n'a personne derrière elle.



Julie

n° ___



Pablo

n° ___



Rita

n° ___



Max

n° ___



Laura

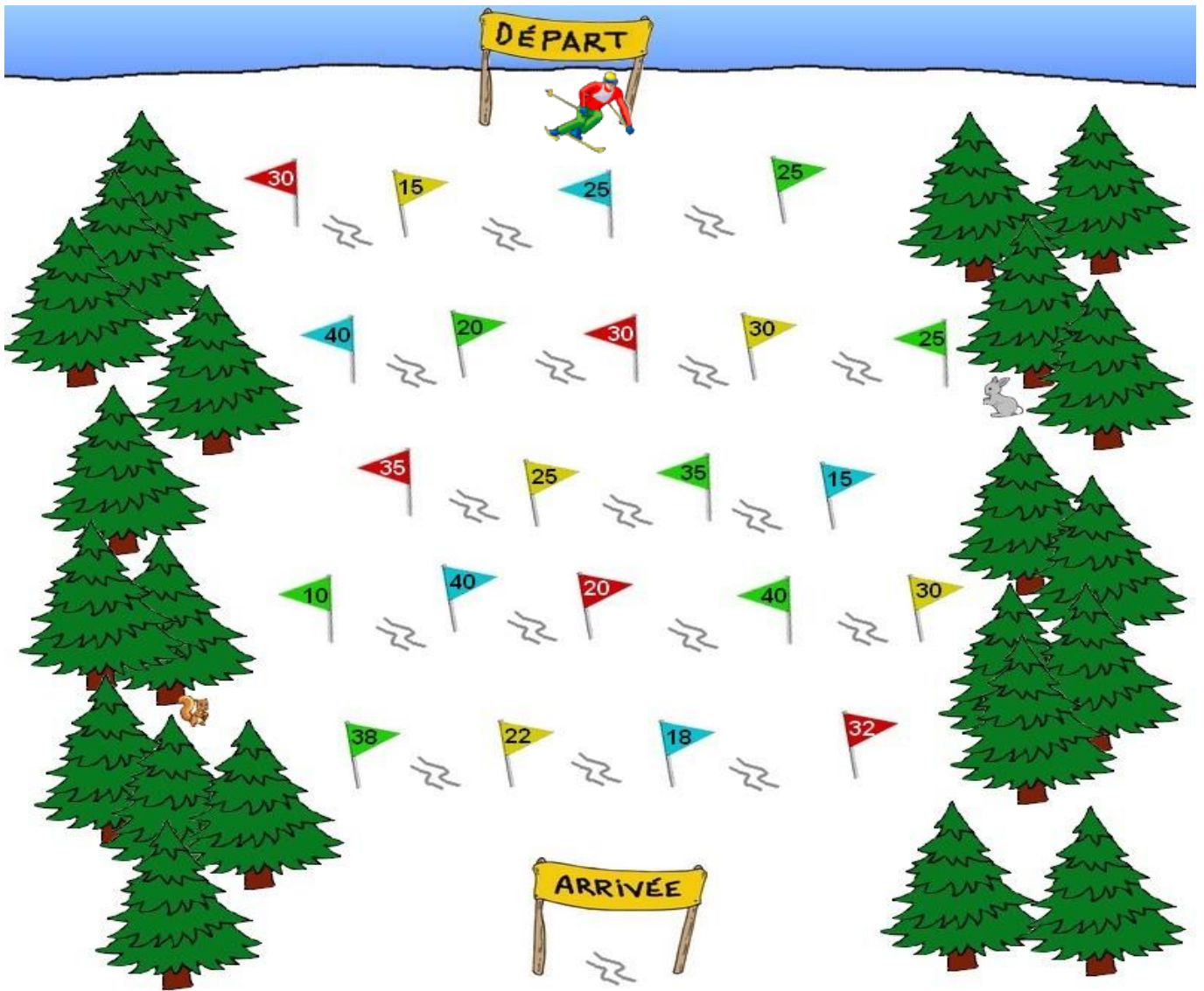
n° ___

Problème n°3



Le skieur doit descendre en passant entre les drapeaux qui font un total de 50.

Trace son parcours.

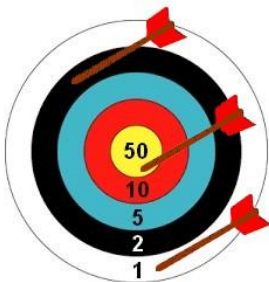


Problème n°4



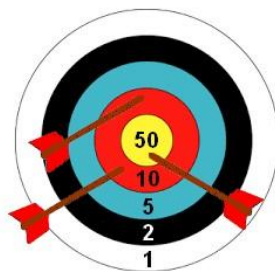
Trois archers ont tiré chacun trois flèches.

Calcule leur score et entoure le nom du gagnant.



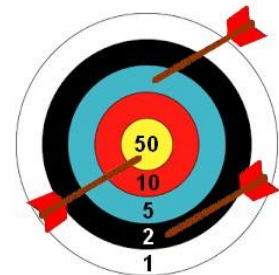
Thomas

Score : ____



Clara

Score : ____



Léo

Score : ____



Problème n°5







Voici les résultats des premiers matches du Tournoi des Six Nations de 2016.



Calcule le score de chaque équipe.



Un essai vaut 5 points, une transformation vaut 2 points, une pénalité vaut 3 points et un drop vaut 3 points.



Nombre de :	 France	 Italie
Essais	3	2
Transformations	1	1
Drops	0	1
Pénalités	2	2
Score		

Nombre de :	 Ecosse	 Angleterre
Essais	0	2
Transformations	0	1
Drops	0	0
Pénalités	3	1
Score		

Nombre de :	 Irlande	 Pays de Galles
Essais	1	1
Transformations	1	1
Drops	0	0
Pénalités	3	3
Score		

Nombre de :	 France	 Irlande
Essais	1	0
Transformations	1	0
Drops	0	0
Pénalités	1	3
Score		

Nombre de :	 Irlande	 Pays de Galles
Essais	3	2
Transformations	3	2
Drops	0	0
Pénalités	2	3
Score		

Nombre de :	 Italie	 Angleterre
Essais	0	5
Transformations	0	3
Drops	0	0
Pénalités	3	3
Score		